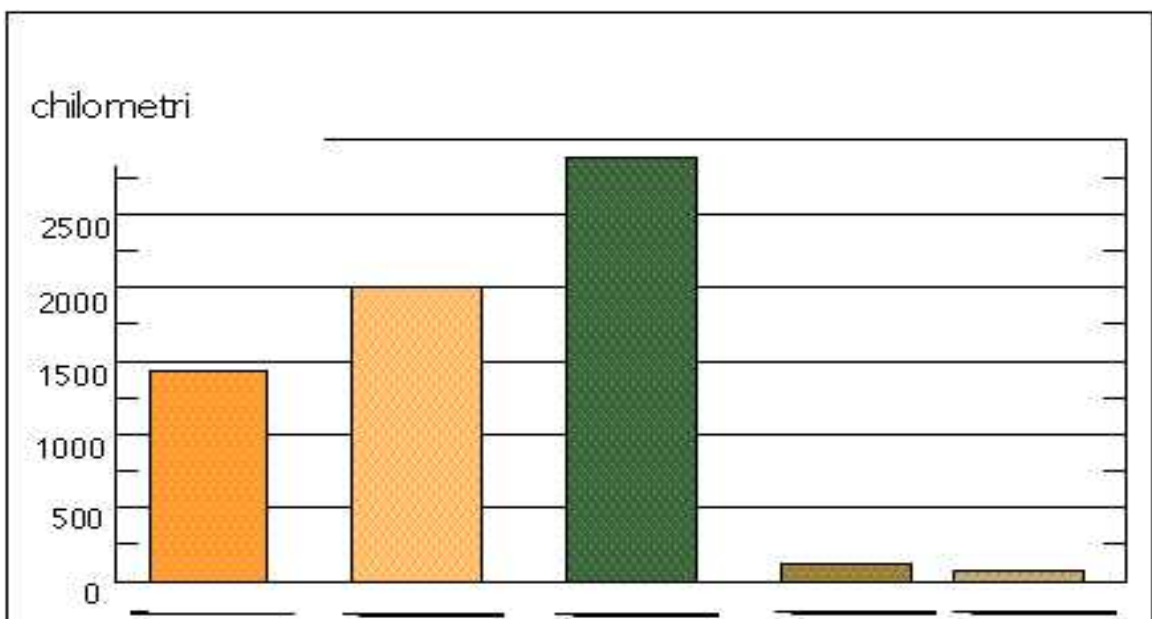
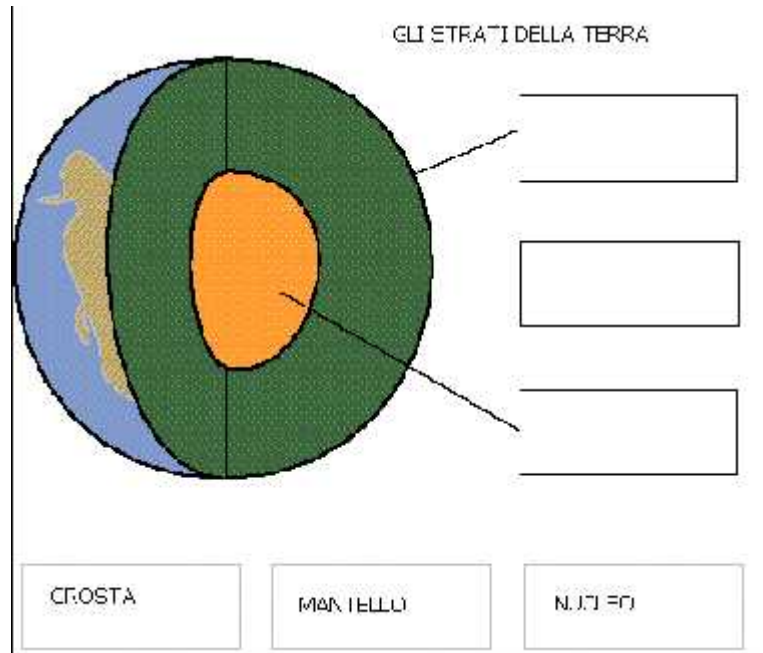
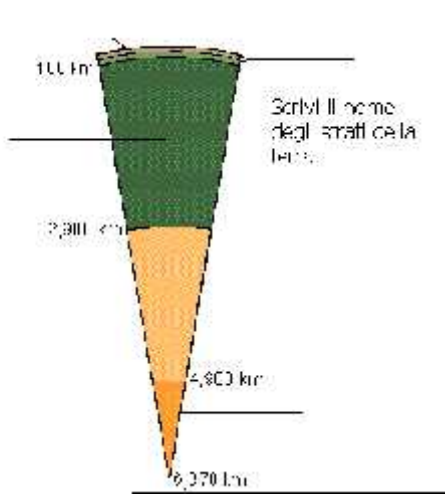


VERIFICA SCIENZE – LA TERRA E LA TETTONICA

NOME _____ COGNOME _____ CLASSE _____ DATA _____

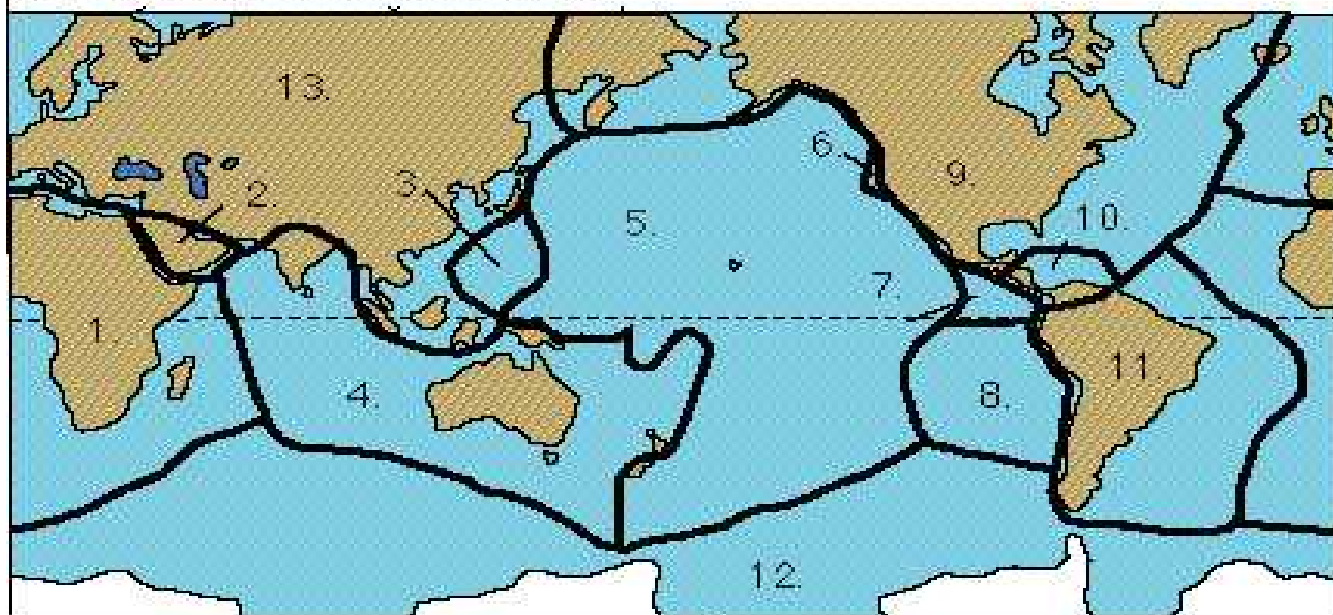
COMPLETA



1. Scrivi le parole al posto giusto:
mantello - nucleo interno -nucleo esterno -crosta -litosfera

2. quanto è spesso ogni strato?
 nucleo interno:
 nucleo esterno:
 mantello:
 Litosfera:
 Crosta:

SCRIVI IL NOME DELLE PLACCHE



UNISCI IL NOME DELLE PLACCHE AL NUMERO NELLA CARTINA

- | | | |
|-----|-------|-------------------|
| 1. | _____ | Juan deFuca |
| 2. | _____ | Pacific |
| 3. | _____ | Arabian |
| 4. | _____ | Cocos |
| 5. | _____ | Africa |
| 6. | _____ | Nazca |
| 7. | _____ | Antarctica |
| 8. | _____ | Australian-Indian |
| 9. | _____ | Caribbean |
| 10. | _____ | Eurasian |
| 11. | _____ | North American |
| 12. | _____ | South American |
| 13. | _____ | Philippine |

1. L'ITALIA è VICINA ALLA PLACCA.....

2. IL MIO PAESE E' VICINO ALLA PLACCA

ALLA DOMANDA 2 RISPONDI SE NON SEI NATO/A IN ITALIA