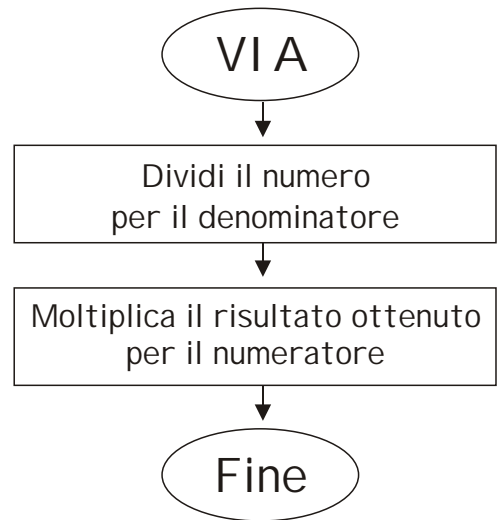



# LA FRAZIONE COME OPERATORE

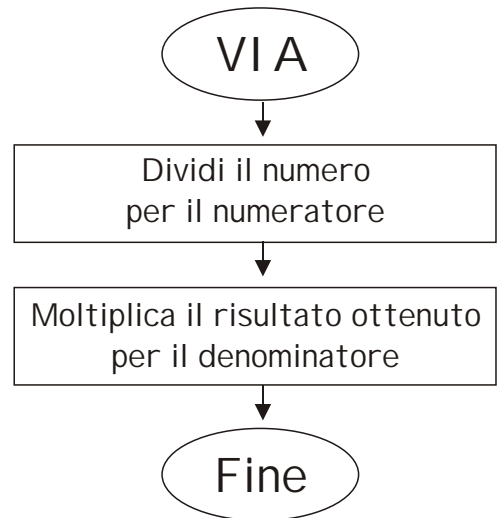

Per calcolare il valore di una frazione:



Calcola il valore della frazione:

$\frac{6}{9}$ di 117 _____	$\frac{5}{7}$ di 175 _____
$\frac{7}{8}$ di 160 _____	$\frac{8}{10}$ di 5.310 _____
$\frac{4}{6}$ di 504 _____	$\frac{2}{5}$ di 15,75 _____
$\frac{11}{15}$ di 150 _____	$\frac{3}{4}$ di 4,8 _____

Per calcolare il valore dell'intero partendo dalla frazione:



Calcola il valore dell'intero:

$\frac{3}{8} = 27 \rightarrow \frac{8}{8} =$ _____	$\frac{6}{10} = 180 \rightarrow \frac{10}{10} =$ _____
$\frac{9}{12} = 369 \rightarrow \frac{12}{12} =$ _____	$\frac{12}{16} = 600 \rightarrow \frac{16}{16} =$ _____
$\frac{10}{15} = 360 \rightarrow \frac{15}{15} =$ _____	$\frac{2}{9} = 80 \rightarrow \frac{9}{9} =$ _____
$\frac{7}{9} = 56 \rightarrow \frac{9}{9} =$ _____	$\frac{5}{7} = 970 \rightarrow \frac{7}{7} =$ _____